

AVALIAÇÃO DIAGNÓSTICA 2013 – MATEMÁTICA – 4º ANO

Escola: _____

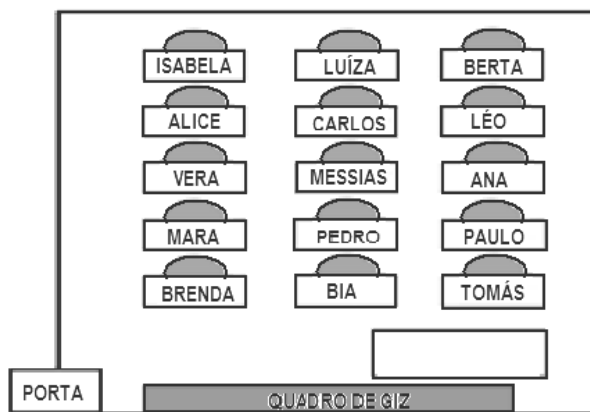
Professora: _____

Aluno: _____

Faça as questões abaixo com atenção e com calma.
É uma avaliação que vai mostrar o que você já sabe e o que precisa aprender.

Questão 01 – (D1)

O desenho abaixo representa a sala de Pedro.




O aluno que está sentado na fila do meio na 3ª carteira do quadro para o fundo da sala é:

- (A) Bia (B) Luíza (C) Carlos (D) Messias

Questão 02 – (D2)

Observe o mapa do centro da cidade onde Fabiano mora.

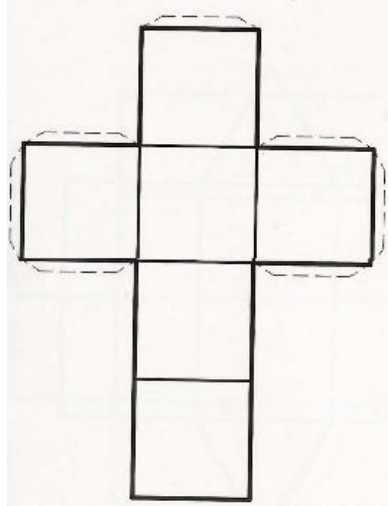


A rua paralela à “Rua São Paulo” é


- (A) Rua São João (B) Rua São Bento (C) Rua Santana (D) Rua São Pedro

Questão 03 – (D3)

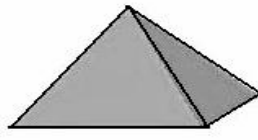
A figura abaixo mostra a planificação de uma figura espacial.



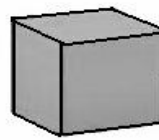
A figura é:



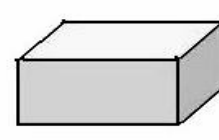
(A)



(B)



(C)

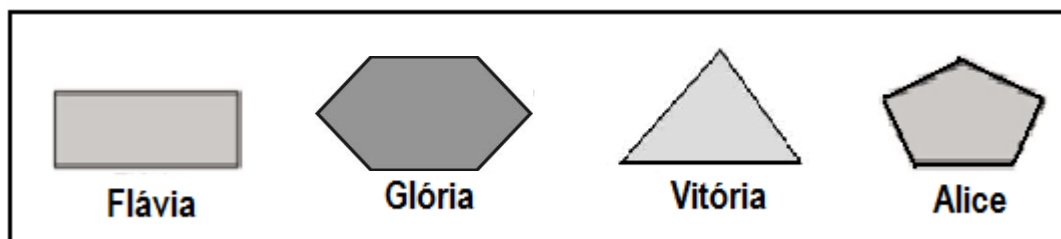


(D)

Questão 04 – (D4)

Alice e suas amigas desenharam algumas figuras geométricas.

Veja o que cada uma desenhou.



Quem fez o desenho de um retângulo foi

(A) Flávia

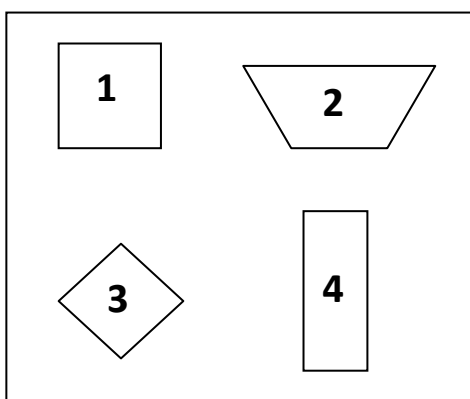
(B) Glória

(C) Vitória

(D) Alice

Questão 05 – (D5)

Clara colou em seu caderno diferentes figuras geométricas. Veja abaixo o que ela colou.



A figura que representa o retângulo é:

A) 1

B) 2

C) 3

D) 4

Questão 06 – (D6)

Rogério dá uma volta completa de bicicleta, diariamente, na pracinha perto de sua casa. Ele percorre aproximadamente



(A) 500 quilômetros

(C) 500 centímetros

(B) 500 metros

(D) 50 metros

Questão 07 – (D7)



Mamãe foi ao açougue e comprou 500 gramas de carne para bife e 500 gramas de carne moída. Mamãe comprou ao todo:

(A) 10 gramas de carne

(C) 1 quilo de carne

(B) 100 gramas de carne

(D) 10 quilos de carne

Questão 08 – (D8)

O consumo de frutas é muito importante numa dieta rica e equilibrada. Desde que plantamos uma árvore até a sua produção de frutos, cada espécie leva um tempo diferente, para dar frutos, como mostra a ilustração:



A fruta que leva 1 ano e 3 meses para frutificar é:

(A) mamão

(C) melancia

(B) abacate

(D) Kiwi

Questão 09 – (D9)

Observe com atenção as horas do relógio digital.



O relógio que marca a mesma hora do relógio digital é



(A)



(B)



(C)



(D)

Questão 10 – (D10)

Na escola “Aprender”, o horário do recreio foi definido como mostra o quadro abaixo.

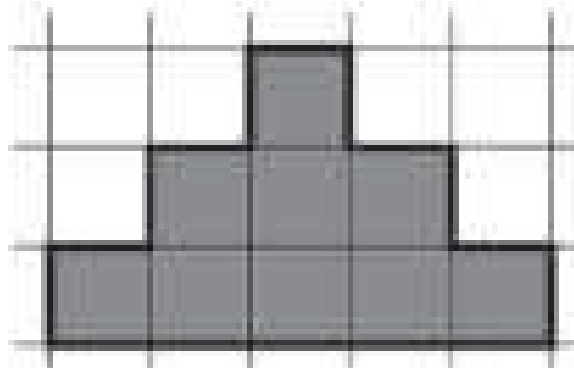
Início do recreio	Término do recreio
10:15h	10:45h

Esse recreio tem a duração de:

- (A) 10 minutos (B) 15 minutos (C) 20 minutos (D) 30 minutos

Questão 11 – (D11)

Ana vai contornar o desenho abaixo com lápis de cor. Cada quadradinho dessa malha tem 1 cm de lado.




O contorno da figura desenhada por Ana mede:

- (A) 9 cm (B) 11 cm (C) 15 cm (D) 16 cm

Questão 12 – (D12)

Veja na malha quadriculada abaixo, a representação de uma parede que Laura revestiu de azulejos cinzas.



Cada quadrinho dessa malha corresponde a 1 metro quadrado.

A medida da área cinza dessa parede é

- (A) 15 metros quadrados. (C) 26 metros quadrados.
(B) 16 metros quadrados. (D) 35 metros quadrados.

Questão 21 – (D25)

Isabel foi ao médico e ele verificou seu peso e a sua altura. Ela cresceu 0,41m.

Veja o comentário que o médico fez sobre a altura de Isabel: Isabel está medindo:

- (A) 1,63 m (C) 1,43 m
(B) 1,61 m (D) 1,53 m



Questão 22 – (D26)



Dona Vera precisa aplicar 2,90 metros de renda na barra de um vestido. Ela já aplicou 1,80 metro.

Para terminar o trabalho ainda falta:

- (A) 1,70 metro (C) 1,90 metro
(B) 1,10 metro (D) 1,00 metro

Questão 23 – (D29)

O quadro abaixo mostra os ingredientes usados por Mariana para fazer um bolo de chocolate.

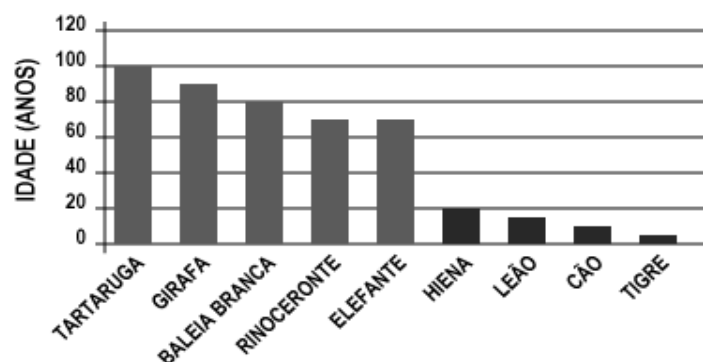
Ingredientes	Quantidade
Açúcar	200 g
Chocolate	150 g
Farinha	300 g
Fermento	50 g

O ingrediente usado em maior quantidade nessa receita foi:

- (A) Açúcar (B) Chocolate (C) Farinha (D) Fermento

Questão 24 – (D30)

Veja o gráfico do tempo de vida dos animais.



Quanto tempo de vida a baleia branca tem aproximadamente?

- (A) 10 anos
(B) 80 anos
(C) 60 anos
(D) 40 anos